


# JOCURI MATEMATICE



## cu pinguini

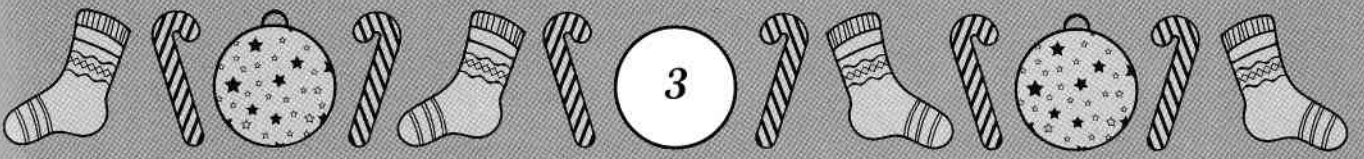






6



Hai să numărăm  
și să încercuim  
6 pinguini.

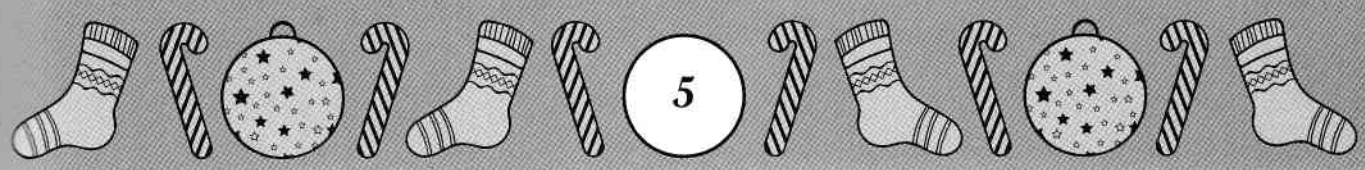




Colorează numerele  
corespunzător și vezi ce  
ornament se ascunde în  
imaginea de mai jos.





- 1 albastru      3 verde
- 2 galben        4 roșu

1	1	1	1	1	1	1	1	2	1	2	1	1	1	1	1	1
1	1	1	1	1	1	1	1	1	2	1	1	1	1	1	1	1
1	1	1	1	1	1	1	1	3	3	3	1	1	1	1	1	1
1	1	1	1	1	1	1	1	3	3	3	1	1	1	1	1	1
1	1	1	1	1	2	2	2	2	2	2	2	2	1	1	1	1
1	1	1	1	2	4	2	4	2	4	2	4	2	4	2	1	1
1	1	1	3	3	3	3	3	3	3	3	3	3	3	3	1	1
1	1	1	2	2	2	2	2	2	2	2	2	2	2	2	1	1
1	1	2	2	2	2	4	4	2	4	4	2	2	2	2	2	1
1	1	2	4	4	2	4	4	4	4	4	2	4	4	2	1	1
1	1	2	4	4	2	4	4	4	4	4	2	4	4	2	1	1
1	1	2	2	2	2	2	4	4	4	2	2	2	2	2	2	1
1	1	2	2	2	2	2	2	4	2	2	2	2	2	2	2	1
1	1	1	2	2	2	2	2	2	2	2	2	2	2	2	1	1
1	1	1	3	3	3	3	3	3	3	3	3	3	3	3	1	1
1	1	1	1	1	2	4	2	4	2	4	2	4	2	1	1	1
1	1	1	1	1	1	2	2	2	2	2	2	2	1	1	1	1
1	1	1	1	1	1	1	1	1	1	1	1	1	1	1	1	1





Hai să numărăm câți pingvini sunt orientați spre dreapta și câți spre stânga, apoi scrie în căsuțele de mai jos numerele corespunzătoare.





Rezolvă adunările și  
trasează linii de la fiecare  
pinguin la cadoul pe care  
urmează să-l primească.



$$2+4$$



$$6+3$$



$$1+7$$



9




8



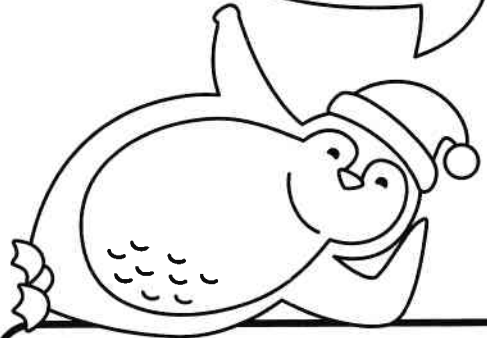
6





5 + 1 = 6

Numără bulinele și rezolvă adunările, la fel ca în exemplu.




+  =

+  =


+  =

+  =





Trasează linii între jumătățile de ou de mai jos, astfel încât fiecărei operații să-i revină rezultatul corect.



$$3 + 5$$

$$2 + 5$$

$$1 + 4$$



$$4 + 2$$

$$6 + 3$$





Rezolvă operațiile de mai jos și colorează ilustrația corespunzător numerelor.

- 5 ROȘU
- 6 GALBEN
- 7 VERDE

7

$6+1$

$3+4$

7

$5+2$

$3+3$

$2+4$

$10-4$

7

$0+7$

$2+5$

6

6

$10-5$

$9-2$

$3+2$

$6-1$

$2+3$

$1+6$

$8-1$

$10-3$

$7+0$

$4+3$





Unește în ordine  
crescătoare numerele  
și vezi ce imagine  
apare.

